

19 反比例とグラフ

① (1) $y = \frac{15}{x}$ (2) $y = 10$

② 右図

③ ① $y = \frac{12}{x}$ ② $y = -\frac{4}{x}$

④ (1) A (3, 2) (2) $y = \frac{6}{x}$

《解説》①(2) $y = \frac{a}{x}$ とおき、 $x = 4$, $y = -5$ を代入して、

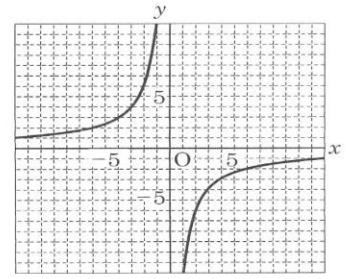
$$-5 = \frac{a}{4} \rightarrow a = -20 \text{ より、} y = -\frac{20}{x}$$

$$\rightarrow x = -2 \text{ を代入して、} y = 10$$

④(1) $y = \frac{2}{3}x$ に $x = 3$ を代入する。 $y = \frac{2}{3} \times 3 = 2$ よって、A(3, 2)

(2) ②の式を $y = \frac{a}{x}$ として、 $x = 3$, $y = 2$ を代入する。

$$2 = \frac{a}{3} \rightarrow a = 6 \text{ よって、} y = \frac{6}{x}$$



20 比例・反比例のまとめ

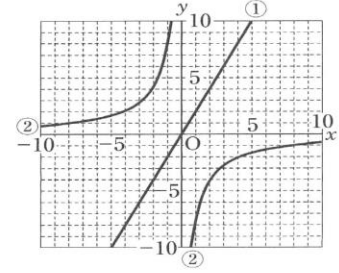
① 右図

② (1) $y = \frac{1}{2}x$ (2) $y = \frac{18}{x}$

③ (1) $y = 8x$ (2) $0 \leq x \leq 5$ (3) 3秒後

《解説》③(1) BからPまでの長さは $2x$ cm $\rightarrow y = \frac{1}{2} \times 8 \times 2x = 8x$

(3) $y = 8x$ に $y = 24$ を代入して、 $24 = 8x \rightarrow x = 3$ (秒後)



21 平面図形の性質

① (1) $AB \perp l$ (2) $m \parallel n$ (3) 3 cm

② ① 接する ② 接線 ③ 接点 ④ 垂直

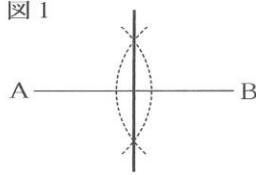
③ (1) 弧の長さ $\cdots \pi$ cm, 面積 $\cdots 2\pi$ cm²

(2) 弧の長さ $\cdots 2\pi$ cm, 面積 $\cdots 3\pi$ cm²

22 作図

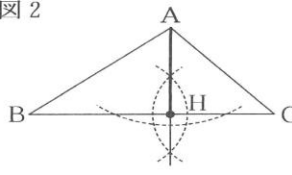
① 右図1

図1



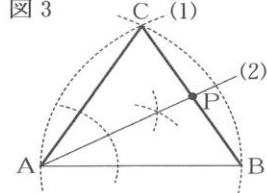
② 右図2

図2



③ 右図3

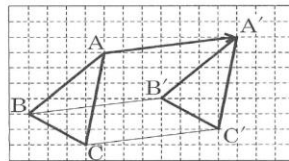
図3



23 図形の移動

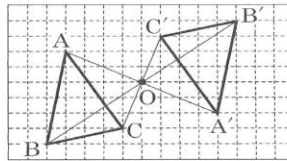
① 右図1

図1



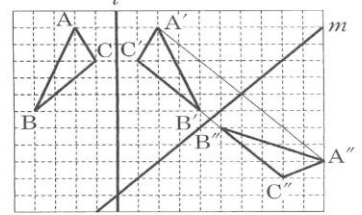
② 右図2

図2



③ 右図3

図3

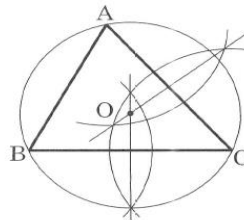


24 平面図形のまとめ

① (1) $l \perp n$ (2) $\angle BAC$ の二等分線

② 右図1

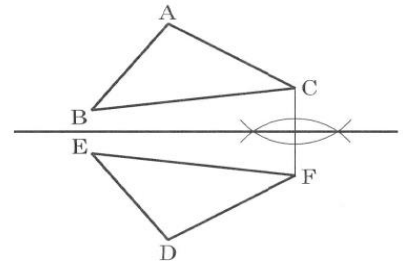
図1



③ (1) 6π cm (2) $18\pi - 36$ (cm²)

④ 右図2

図2



《解説》② 線分BCの垂直二等分線と線分ACの垂直二等分線の交点をOとします。点Oを中心とする半径OAの円をかく。

③(2) 半径6 cm, 中心角90°のおうぎ形の

面積から、等辺の長さが6 cmの直角二等辺三角形の面積をひいて2倍する。

$$\left(\pi \times 6^2 \times \frac{90}{360} - \frac{1}{2} \times 6 \times 6 \right) \times 2 = 18\pi - 36 \text{ (cm}^2\text{)}$$

④ 対称の軸を l , CF と l の交点を G とすると、 $CF \perp l$, $CG = FG$ だから、 CF の垂直二等分線が対称軸である。